


Y



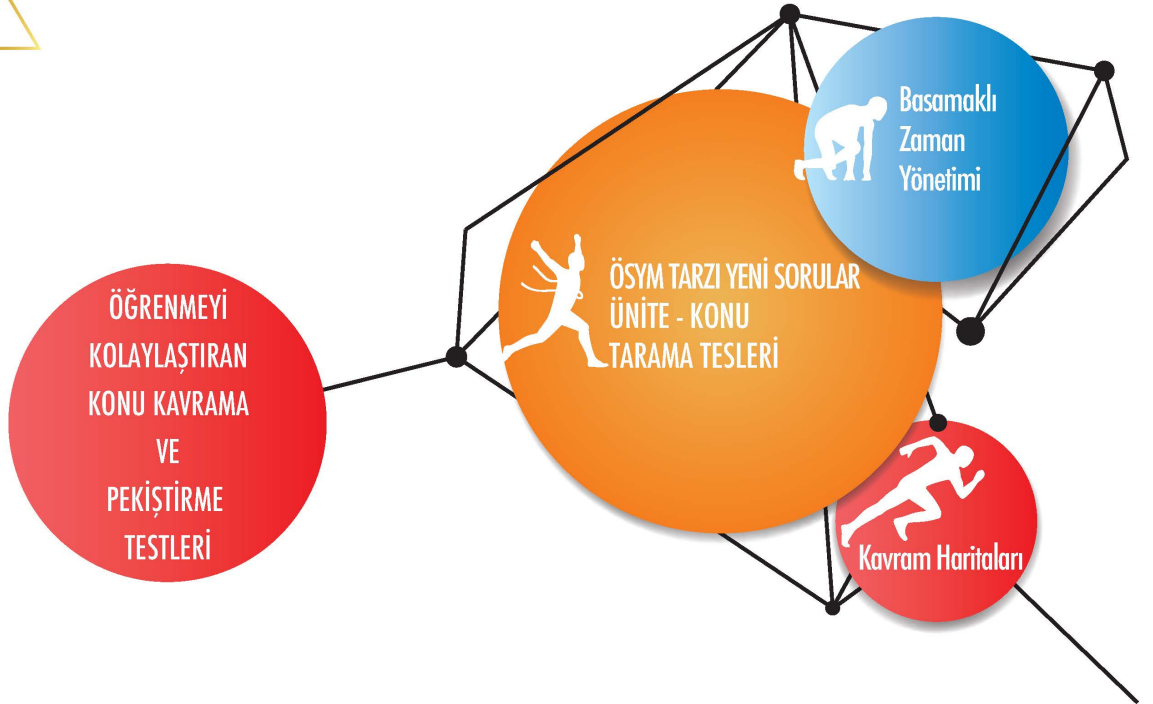
TARİH

SORU BANKASI

► Funda OĞUZ

K

S



Hız Renk Uzaktan Eğitim
ile Başarına Renk Kat



BU KİTAPTA NELER VAR?

1

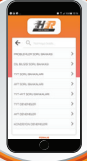


www.lisedestek.com adresinden Hız ve Renk Soru bankaları ile Denemelerinin Örnek PDF'lerine, Akıllı tahta uygulamalarına ve diğer içeriklerine ulaşabilirsiniz.

You
Tube

Hız ve Renk Uzaktan Eğitim Kanalı'nda konu anlatımı ve daha fazlasını bulacaksınız.

2



Hız ve Renk uygulamasından ya da Hız ve Renk yayınları web sayfasından soru çözüm videolarını Hız ve Renk yazarlarından dinleyebilirsiniz.



3

Konu Kavram, Konu Pekiştirme, ÖSYM Tarzı ve Hızlı Taramalardan oluşan toplam **85 TEST, 1098 SORU** başarınıza renk katacak.

4



Konu özetli, pratik kavram haritaları ile bilgilerinizi canlı tutabilirsiniz.

5

**ÜNİVERSİTE HAZIRLIK
TARİH
SORU BANKASI**

ISBN

ISBN: 978-605-7530-89-9
0706 - 1 - 21

Genel Yayın Koordinatörü

Harun DERİN

Yazar

Funda OĞUZ

Editör

Nuri SOYUDURU

Dizgi

HIZ VE RENK Dizgi Birimi

İLETİŞİM

HIZ VE RENK YAYINLARI
Ostim Mahallesi 1207. Sokak No:3/C-D
Ostim/Ankara
Tel: 0312 395 13 36

Copyright © Bu kitabın her hakkı saklıdır.

Hangi amaçla olursa olsun,
bu kitabın tamamının ya da bir kısmının,
kitabı yayımlayan yayınevinin önceden
izni olmaksızın elektronik, mekanik, fotokopi
ya da herhangi bir kayıt sistemi ile çoğaltıl-
ması, yayımlanması ve depolanması yasaktır.

Sunuş

DEĞERLİ ÜNİVERSİTE ADAYLARI,

Üniversiteye giriş sınavları uzun, yorucu ve sabır isteyen bir yolculuktur. HIZ VE RENK YAYINCILIK olarak bu uzun yolculukta sizlerin destekçisi ve rehberi olmayı bir görev bilmekteyiz. Bu anlayışla hazırladığımız soru bankalarımızla üniversite sınavlarına hazırlık aşamasında başarınızı daha yukarılara taşımak ve istediğiniz üniversitelere sizleri ulaştırabilmek temel hedefimizdir.

HIZ VE RENK soru bankaları konu kavratma, pekiştirme ve ÖSYM soru tiplerine adapte olabilme anlayışı ile oluşturulmuştur. Ayrıca “Basamaklı Zaman Yönetimi”ne göre kurgulanan testler zaman yönetimi konusunda da sizlere önemli bir kazanım sağlayacaktır. Kitabın sonunda, sorularda kullanılan kavramları içeren bir sözlüğe ve kavram haritalarına yer verilmiştir.

Kitabımızdaki “**MAVİ TESTLER**”, ilgili konunun en üst düzeyde kavranmasını amaçlamaktadır. Her ünitenin başında bulunan bu testleri dikkatle çözmek ve bu testlerde kaçırduğunuz sorulardan hareketle eksiklerinizi tespit ederek konu tekrarı yapmanız, konuyu daha iyi kavramanızı sağlayacaktır.

“**KIRMIZI TESTLER**”, konunun pekiştirilmesinde ve öğrenilenlerin kalıcı olmasında önemli rol üstlenmektedir. Bu testler sayesinde bilgileriniz daha da sağlamlaşacaktır.

“**TURUNCU TESTLER**”, ÖSYM sorularına uyum sağlamanızda size rehber olacak testlerdir. Üniversite sınav soruları paralelinde, özgün sorulardan oluşan bu testler ile sınav sorularını daha kolay analiz edebilecek ve üniversite sınavlarına gerçek anlamda hazır olacaksınız.

“**HIZLI TARAMA TESTLERİ**”, önceki ünite ve konuları kapsayan sorulardan oluşan testlerdir. Bu testler ünitenin/konunun unutulmasını önlemek amacıyla oluşturulmuş testlerdir. Bu testlerde yanlış cevapladığınız soruların konularını tekrar etmenizi öneririz.

Titiz bir çalışmanın ürünü olan TARİH SORU BANKAMIZ, MEB'in müfredat programıyla ve ÖSYM'nin soru tarzlarıyla bire bir uyumludur. Kitabın hazırlanmasında büyük emekleri geçen yazarımız Sayın Funda OĞUZ'a; editörümüz Nuri SOYUDURU'ya; dizgi ve tasarım uzmanımız Raşit SAVAŞ'a teşekkür ederiz.

Başarılarınıza renk ve hız katabilmek dileğiyle...

HIZ VE RENK YAYINLARI

İçindekiler

Sayfa

Sayfa

1. ÜNİTE

Konu Kavram Haritaları	5
Tarih ve Zaman / İnsanlığın İlk Dönemleri.....	7

2. ÜNİTE

İlk Çağ Uygarlıkları/ Orta Çağ'da Dünya	15
---	----

3. ÜNİTE

Konu Kavram Haritaları	23
İlk ve Orta Çağlarda Türk Dünyası	25

4. ÜNİTE

İslam Medeniyetinin Doğuşu	33
----------------------------------	----

5. ÜNİTE

Konu Kavram Haritaları	41
İlk Türk-İslam Devletleri / Yerleşme ve Devletleşme	
Sürecinde Selçuklu Türkiyesi	43

HIZLI TARAMA TESTİ 1

.....	51
-------	----

6. ÜNİTE

Konu Kavram Haritaları	55
Beylikten Devlete Osmanlı Siyaseti (1302-1453)	57

7. ÜNİTE

Dünya Gücü Osmanlı (1453-1595).....	65
-------------------------------------	----

8. ÜNİTE

Osmanlı Kültür ve Uygarlığı.....	73
----------------------------------	----

9. ÜNİTE

Konu Kavram Haritaları	81
XVII. Yüzyılda Osmanlı İmparatorluğu	83

10. ÜNİTE

XVIII. Yüzyılda Osmanlı İmparatorluğu	91
---	----

11. ÜNİTE

Konu Kavram Haritaları	99
Yeni Çağ ve Yakın Çağ'da Avrupa'daki Gelişmeler..	101

HIZLI TARAMA TESTİ 2

.....	105
-------	-----

12. ÜNİTE

XIX. Yüzyılda Osmanlı İmparatorluğu	109
---	-----

13. ÜNİTE

Konu Kavram Haritaları	119
XX. Yüzyıl Başlarında Osmanlı Devleti ve Dünya ...	121

14. ÜNİTE

Konu Kavram Haritaları	131
Millî Mücadele'nin Hazırlık Dönemi	133

15. ÜNİTE

Büyük Millet Meclisinin Açılması/ Sevr Antlaşması	141
---	-----

16. ÜNİTE

Konu Kavram Haritaları	149
Millî Mücadele'nin Muharebeler Dönemi ve	
Lozan Antlaşması	151

17. ÜNİTE

Konu Kavram Haritaları	159
Atatürkçülük ve Türk İnkılabı	161

HIZLI TARAMA TESTİ 3

.....	177
-------	-----

18. ÜNİTE

İki Savaş Arası Dönemde Türkiye ve Dünya	181
--	-----

19. ÜNİTE

Konu Kavram Haritaları	191
II. Dünya Savaşı Sürecinde Türkiye ve Dünya	193

20. ÜNİTE

II. Dünya Savaşı Sonrasında Türkiye ve Dünya	197
--	-----

21. ÜNİTE

Konu Kavram Haritaları	201
Toplumsal Devrim Çağında Dünya ve Türkiye	203

22. ÜNİTE

21. Yüzyılın Eşiğinde Türkiye ve Dünya	207
--	-----

HIZLI TARAMA TESTİ 4

.....	211
-------	-----

KAVRAM SÖZLÜĞÜ

.....	215
-------	-----

CEVAP ANAHTARI

.....	221
-------	-----

NOTLARIM

A series of horizontal dotted lines for writing notes, spanning the width of the page.

TAKVİMLER

Güneş Yılı Takvimleri

- ◆ Miladi Takvim
- ◆ 12 Hayvanlı Türk Takvimi
- ◆ Celali Takvim
- ◆ Rumi Takvim

Ay Yılı Takvimleri

- ◆ Hicri Takvim

TARİH

Özellikleri

Sosyal bir bilimdir.
Deney ve gözlem yapılamaz.

Konusu

İnsan topluluklarının faaliyetleri, değişimleri ve meydana getirdiği eserlerdir.

Tanımı

Geçmişte yaşamış insan topluluklarının yaşantılarını, ilişkilerini, kültürlerini yer ve zaman göstererek neden-sonuç ilişkisi içerisinde belgelere dayanarak inceleyen bilim dalıdır.

Yardımcı Bilimler

- ◆ Kronoloji
- ◆ Arkeoloji
- ◆ Antropoloji
- ◆ Nüvizmatik
- ◆ Heraldik
- ◆ Filoloji
- ◆ Psikoloji
- ◆ Coğrafya
- ◆ Diploması
- ◆ Paleografya
- ◆ Etnografya
- ◆ Epigrafya
- ◆ Sosyoloji

Kaynaklar

Birinci El Kaynaklar

Tarihi olayın geçtiği döneme ait belge ve bulgular.

İkinci El Kaynaklar

Tarihi olayın geçtiği döneme yakın ya da o dönemin kaynaklarından yararlanarak oluşturulan eserler.

Sınıflandırılması

Sözlü Kaynaklar

Yazılı Kaynaklar

Sesli ve Görüntülü Kaynaklar

Gerçek Eşya ve Nesnel

**ESKİ YUNAN
UYGARLIĞI**
(MÖ. 1200-MÖ. 337)

İRAN UYGARLIĞI
(MÖ. 1200 - MÖ. 337)

- ◆ Persler
(MÖ.550 - MÖ.330)
- ◆ Medler
(MÖ.856 - MÖ.549)

MISIR UYGARLIĞI
(MÖ. 3000-MÖ. 525)

ROMA UYGARLIĞI
(MÖ. 753-MS. 395)

**MEZOPOTAMYA
UYGARLIKLARI**

- ◆ Sümerler
(MÖ.4000 - MÖ.2350)
- ◆ Akadlar
(MÖ.4000/2350 - MÖ.2100)
- ◆ Elamlar
(MÖ.3000 - MÖ.640)
- ◆ Babiller
(MÖ.2100 - MÖ.539)
- ◆ Asurlar
(MÖ.2000 - MÖ.609)

İLK ÇAĞ UYGARLIKLARI

**ANADOLU
UYGARLIKLARI**

- ◆ Hititler
(MÖ. 1700 - MÖ.700)
- ◆ Frigler
(MÖ. 800 - MÖ 676)
- ◆ Lidyalılar
(MÖ. 687 - MÖ.546)
- ◆ Urartular
(MÖ. 900 - MÖ.600)
- ◆ İonyalılar
(MÖ. XII. yüzyıl - MÖ. VII. yüzyıl)

HELLEN UYGARLIĞI
(MÖ.359 - MÖ.323)

**DOĞU AKDENİZ
UYGARLIĞI**

- ◆ Fenike
(MÖ.1000 - MÖ.520)
- ◆ İbrani

EGE UYGARLIĞI

- ◆ Girit
(MÖ.3500 - MÖ.1200)
- ◆ Miken (Aka)
(MÖ.2000 - MS.1200)

**ORTA ASYA TÜRK
UYGARLIĞI**



1. Anadolu'da yapılan höyük kazılarında kıyafetler, demir oraklar, çömlekler ve mühürler bulunmuştur.

Buna göre;

- I. tarımsal üretim yapıldığı,
- II. ölü gömme âdetleri bulunduğu,
- III. maden işçiliğinin varlığı,
- IV. özel mülkiyetin geliştiği,
- V. silah teknolojisinin geliştiği

durumlarından hangisine ulaşamaz?

- A) I B) II C) III D) IV E) V

2. İnsanlığın ilk dönemlerinde çağların yaşanma süreleri oldukça uzun ve etkileşim az iken tarihî devirlerde etkileşimin hızlandığı ve çağların yaşanma sürelerinin kısaldığı görülür.

Bu durumu;

- I. göç,
- II. savaş,
- III. yönetim şekli,
- IV. ticaret

unsurlarından hangilerinin sağladığı söylenebilir?

- A) Yalnız I B) I ve II C) II ve III
D) III ve IV E) I, II ve IV

3. Tarih araştırmalarında ana kaynaklar önem taşır.

- I. Fermanlar
- II. Kil tabletler
- III. Efsaneler

Numaralandırılmış kaynak gruplarından hangileri birinci elden kaynaklar arasında yer almaz?

- A) Yalnız I B) Yalnız II C) Yalnız III
D) I ve II E) I, II ve III

4. Tarihte tüm olaylar neden-sonuç ilişkisi içerisinde gelişir. Her olay bir başka olayın nedeni ya da sonucudur.

Aşağıdakilerden hangisinde neden-sonuç ilişkisi yoktur?

- A) Kast sisteminin varlığı → Hindistan'da ulusal birliğin sağlanamaması
- B) İbranilerin dinlerini kavim dini saymaları → Yahudiliğin evrensel özelliğe ulaşmaması
- C) Asurların kolonici olması → Mezopotamya kültürünün Anadolu'yu etkilemesi
- D) Tavananna'nın dinsel yetkilerin bulunması → Hititlerde taht kavgaları yaşanması
- E) Lidyalılarda ordunun paralı askerlerden oluşması → Lidya uygarlığının kolay yıkılması

5. Neolitik Dönem'i yaşayan insanlar ihtiyaçları doğrultusunda yeni buluşlar ve araçlar geliştirmişlerdir.

Aşağıdakilerden hangisi bu duruma kanıt olarak gösterilemez?

- A) Tarımsal üretimi artırmak için sabanı bulmuşlardır.
- B) Tahıl depolamak için demirden küpler yapmışlardır.
- C) Sulama kanalları açmışlardır.
- D) Takasa dayalı ticaret yapmışlardır.
- E) Köy yerleşimini başlatmışlardır.

6. "Tarih yazmak, tarih yapmak kadar önemlidir. Yazan yapana sadık kalmazsa değişmeyen hakikat insanlığı şaşırtacak bir mahiyet alır."

Atatürk bu sözü ile tarih yazımındaki;

- I. objektiflik,
- II. laiklik,
- III. yenilikçilik

etkenlerinden hangilerinin önemini vurgulamıştır?

- A) Yalnız I B) Yalnız II C) Yalnız III
D) I ve II E) I, II ve III



7. "Savaş sonrasında Avrupa ve Asya'da güçler dengesinde büyük boşluklar meydana geldi. Bu durumun ortaya çıkmasında İngiltere ve Fransa'nın da savaştan oldukça yıpranmış olarak çıkması rol oynadı. Avrupa'da Almanya'nın Asya'da Japonya'nın yerini tek başına dolduracak güçte bir devlet yoktu. Bu savaştan sonra güçlü olarak ayakta kalabilen devletler ABD ve SSCB oldu."

Ders kitabından verilen metni okuyan Kemal, tarih biliminin tanımında yer alan aşağıdaki kavramlardan hangisinin paragrafta belirtilmediğini söyleyebilir?

- A) Yer
- B) Zaman
- C) Olay
- D) İlişki
- E) Neden-Sonuç

8. Aşağıdakilerden hangisi tarih öğreniminin sağladığı yararlar arasında yer almaz?

- A) İnsanların geleceğe güvenle bakmasını sağlamak
- B) Geçmişten ders alınmasını sağlamak
- C) Ulusların tarihlerini öğrenmelerine yardımcı olmak
- D) İnsanların savaş tekniklerini geliştirmelerini sağlamak
- E) Bireylere millî ve kültürel değerleri öğretmek

9. Aşağıdakilerden hangisinin ortaya çıkış zamanı diğerlerinden daha belirgindir?

- A) Mustafa Kemal 1881'de doğdu.
- B) Fatih Sultan Mehmet 15.yy'ın ikinci yarısında İstanbul'u fethetti.
- C) Cumhuriyet 29 Ekim'de ilan edildi.
- D) Halifelik Mart 1924'te kaldırıldı.
- E) Osmanlı Devleti 14. yy'da kuruldu.

10. "Tunç Çağı tarihî devirlere geçiş dönemidir." diyen bir tarihçi bu görüşüne kanıt olarak;

- I. Üretimde artış sağlanmıştır.
- II. Yazı kullanılmaya başlanmıştır.
- III. Yerleşik hayata geçilmeye başlanmıştır.

gelişmelerinden hangilerini gösterebilir?

- A) Yalnız I
- B) Yalnız II
- C) Yalnız III
- D) I ve II
- E) I ve III

11. 1918 Mondros Ateşkes Anlaşması'ndan sonra Anadolu'da asayiş bozulmuş ticari faaliyetler zayıflamış ve bölgenin ekonomik kaynakları işgal güçleri tarafından sömürülmüştür.

Yukarıdaki bilgilerde tarih biliminin;

- I. neden-sonuç ilişkisi kurması,
- II. insan faaliyetlerini incelemesi,
- III. yer ve zaman belirtmesi

özelliklerinden hangilerinin bulunduğu söylenebilir?

- A) Yalnız I
- B) Yalnız II
- C) Yalnız III
- D) I ve III
- E) I, II ve III

12. Tarih öncesi devirler dünyanın her yerinde aynı anda başlayıp aynı anda bitmemiştir.

Bu duruma bakılarak;

- I. İletişim az olduğu için kültürel etkileşim çok yavaş gerçekleşmiştir.
- II. Toplumlar arası çatışmalar çok olduğu için gelişme yavaş olmuştur.
- III. Ticaret geliştiği için başka toplumlarla iletişim kurmaya ihtiyaç hissedilmemiştir.

yargılarından hangilerine ulaşılabılır?

- A) Yalnız I
- B) Yalnız II
- C) Yalnız III
- D) I ve III
- E) I, II ve III



1. İnsanların buluşlarında ihtiyaçlar kadar dinsel inançların da etkisi vardır.

Aşağıdakilerden hangisi dinsel inançlardan kaynaklanan bir gelişmedir?

- A) Para
B) Barut
C) Ay yılı esaslı takvim
D) Yazılı kanunlar
E) Alfabe

2. **Tanım:** Tarih; insan topluluklarının geçmişteki yaşantılarını, kültür ve uygarlık alanındaki gelişmelerini, neden-sonuç ilişkileri içerisinde yer ve zaman göstererek inceleyen, belgelerle kanıtlayan yazılı ve sosyal bir bilim dalıdır.

Durum: Alparslan, Malazgirt Savaşı'nı kazandıktan sonra beylerine Anadolu'yu fethetmelerini ve beylikler kurmalarını emretmiştir. Bunun üzerine Anadolu'da ilk Türk beylikleri kurulmuş ve ilk Türk-İslam eserleri ortaya çıkmıştır.

Yukarıdaki tanımda verilip durumda verilmeyen özellik aşağıdakilerden hangisidir?

- A) Yer
B) Neden
C) Sonuç
D) Belge
E) Zaman

3. Neolitik Çağ'da başlayan köy oluşumları Tunç Devri'nde site, nom, polis gibi adlar taşıyan şehir devletlerine dönüşmüştür.

Yalnızca bu bilgidен hareketle aşağıdaki yargılardan hangisine ulaşılabilir?

- A) İnsanlığın yaşadığı ilk dönem Neolitik Çağ'dır.
B) Neolitik Çağ'dan sonra Tunç Devri başlamıştır.
C) Tunç Devri'nde bütün dünyada devlet oluşumu başlamıştır.
D) Siyasal örgütlenme Tunç Devri'nde başlamıştır.
E) Tunç Devri'nde yoğun savaşlar yaşanmıştır.

4. Madencilik hiç yapılmadığı tarih öncesi dönemi yaşayan bir bölgede yapılan kazılarda çok miktarda bakır külçelerine rastlanmıştır.

Sadece bu bilgiye bakılarak bölgeyle ilgili;

- I. Bakır madeni bakımından zengin bir bölgedir.
II. Tarihsel süreçte ilk olarak bakır dönemi yaşanmıştır.
III. Başka toplumlarla ticari faaliyetler yapılmıştır.

yargılarından hangilerine ulaşılabilir?

- A) Yalnız I
B) Yalnız II
C) Yalnız III
D) I ve III
E) I, II ve III

5. Tarih öncesine ait bir yerleşim yerinde yapılan kazılarda farklı katmanlarda kalıntılar bulunmuştur. En alt katmanda ilkel taş aletlere, orta katmanda kerpiç ev kalıntlarına, üst katmanda demirden yapılmış silahlara ve tuğladan yapılmış sur kalıntlarına rastlanmıştır.

Bu bilgilere bakılarak;

- I. Tarih öncesi devirler sırasıyla yaşanmıştır.
II. Maden devirlerine geçiş sağlanmıştır.
III. Yerleşik yaşama geçilememiştir.

yargılarından hangilerine ulaşılabilir?

- A) Yalnız I
B) Yalnız II
C) Yalnız III
D) I ve II
E) I, II ve III

6. "Geçmiş insanlık kadar eski olmasına rağmen tarih yeni bir bilimdir."

Bu bilgiye bakılarak;

- I. Tarih, bilim dalı olarak ancak XIX. yüzyılda kabul edilmiştir.
II. Tarih geçmişi incelediği için matematik, tıp gibi bilimlerin arasında sayılmamıştır.
III. Tarih, yazının bulunmasından önceki dönemleri de incelemiştir.

yargılarından hangileri söylenebilir?

- A) Yalnız I
B) Yalnız II
C) Yalnız III
D) I ve III
E) I, II ve III



7. Varoluşundan günümüze kadar insanlığın yaşadığı tarih bir bütündür. Ancak bu bütünü ne birden inceleyip öğrenmek ne de bu bilgilerin tamamını olduğu gibi başkalarına öğretebilmek mümkündür.

Bu durum aşağıdakilerden hangisine neden olmuştur?

- A) Yapılan çalışmaların uzun sürmesine
B) Tarihi; zaman, mekân ve konulara göre sınıflandırmaya
C) Olaylara farklı yaklaşımlar getirilmesine
D) Diğer bilimlerden zorunlu olarak yardım alınmasına
E) Olaylar, incelenirken objektif olma zorunluluğuna

8. Denilebilir ki insanla ilgili her şey, her olay, kendi alanlarında çok önemli araştırma ve bilgi kaynakları olmakla beraber, genel anlamda hepsi tarihin konusu içinde yer alır.

Bu durumu, en iyi açıklayan yargı aşağıdakilerden hangisidir?

- A) Tarihin konusu çok geniş ve kapsamlıdır.
B) Tarih diğer bilimlerden de yardım alır.
C) Tarihin temel konusu insan ve toplumdur.
D) Tarih tek başına yeterli bir bilimdir.
E) Bütün bilimler tarihten doğmuştur.

9. “Çoğu zaman tarihçiler kaynaklarının filoloğu olmak zorunda kalmaktadır.” diyen bir araştırmacı;

- I. sanat,
II. ekonomi,
III. dil

konularından hangilerinde tarihçilerin bilgi sahibi olmalarının zorunluluğunu savunmaktadır?

- A) Yalnız I B) Yalnız II C) Yalnız III
D) I ve III E) I, II ve III

10. Birer mezar sayılan dolmenlerin toprak yığınlarıyla örtülüp bir tepe şekline getirilmiş hâli olan tümülüsler Anadolu’da “höyük”, Türkistan’da “kurgan” denilmektedir.

Bu bilgilere bakılarak aşağıdakilerden hangisi söylenebilir?

- A) Her iki bölgede de tek tanrılı din anlayışı bulunmaktadır.
B) Anadolu ve Türkistan’da hayatın ölümle son bulmadığına inanılmaktadır.
C) Her iki kültürlerde de ulusçu devlet anlayışı bulunmaktadır.
D) İki bölge arasında siyasal sorunlar bulunmaktadır.
E) Her iki bölgede de siyasi birlik bulunmamaktadır.

11. Paleolitik Dönem’de erkekler avlanıyor, kadınlar ve çocuklar ellerindeki sopayla toprağın üstünde ve altında yiyecek arıyorlardı.

Bu duruma bakılarak;

- I. Üretici toplum yapısına geçilmiştir.
II. Siyasal örgütlenme oluşmuştur.
III. Temel ekonomik etkinlik avcılık ve toplayıcılıktır.

yargılarından hangilerine ulaşılabilir?

- A) Yalnız I B) Yalnız II C) Yalnız III
D) I ve III E) I, II ve III

12. Tarih öncesi dönemlerde;

- Avcının daha büyük başarılar elde etmesi, daha büyük hayvanları avlayabilmesi,
- İnsanın aynı topraktan çok daha fazla ürün elde edebilmesi

olanaklarını sağlayan gelişme aşağıdakilerden hangisidir?

- A) Ticari ilişkilerin başlaması
B) Üretimde gelişme sağlanması
C) Doğal iş bölümünün başlaması
D) Ateşin kullanılmaya başlaması
E) Yeni iş aletlerinin ortaya çıkması



1. Tarih arařtırmalarında;

- I. dönemin şartlarını göz önünde tutma,
- II. belgelere göre deęerlendirme yapma,
- III. neden – sonuç ilişkilerini inceleme,
- IV. olayların etkilerini arařtırma,
- V. yalnızca olayın geçtięi alanda inceleme yapma

durumlarından hangisi doęru bir yöntem deęildir?

- A) I B) II C) III D) IV E) V

- 2.** I. Bakır kazan
II. Demir kılıç
III. Deęirmen tařı
IV. Tunç balta
V. İkel taş bıçak

Tarih öncesi dönemleri sıralı yařayan bir bölgede ele geçen bu eserlerin yukarıdan ařaęıya doęru sıralanması hangi seçenekte verilmiřtir?

- A) II, III, IV, I ve V B) II, IV, I, V ve III
C) V, III, I, IV ve II D) II, IV, I, III ve V
E) V, II, IV, III ve I

3. Tarihsel bir arařtırmada aynı konunun deęiřik yönlerini anlamaya çalıřan bilim insanlarının yapması gereken çalıřma ařaęıdakilerden hangisidir?

- A) Olayın geçtięi yeri arařtırmak
- B) Dięer bilimlerin yardımına bařvurmak
- C) Bařka olaylarla benzerliklerini aramak
- D) Olayları kronolojik olarak sıralamak
- E) Deney ve gözleme bařvurmak

- 4.** Tarih, geçmiřte yařamıř insan topluluklarının yařantılarını, kültürlerini ve ilişkilerini inceleyen sosyal bir bilim dalıdır.

Buna göre, ařaęıdakilerden hangisi tarih biliminin arařtırma alanlarından biri deęildir?

- A) Osmanlı-Safevi ilişkileri
- B) 1930 FIFA Dünya Kupası
- C) Leonardo da Vinci'nin Mona Lisa tablosu
- D) Buzulların erimesi
- E) Sanayi Devrimi

- 5.** Dięer ülkelerin tarihinden tamamen bağımsız bir ülke tarihi yoktur. Karakterleri kendisinden önceki veya sonraki devirlerde temsil edilmeyen bir devir yoktur. Bir sorunu tamamen soyutlayabilecek mantıklı bir tarih kesiti de yoktur.

Bu görüşü savunan bir tarihçinin görüşünü ařaęıdakilerden hangisi kanıtlamaz?

- A) Her türlü ayırım bütünü bozucu özellik taşıyor.
- B) Dięer bilimlerden de yardım alınmalıdır.
- C) Tarih ancak öğrenimde kolaylık sağlamak için bölümlendirilmelidir.
- D) Türk tarihini incelemek için dünya tarihini bilmek gerekir.
- E) Olayları neden-sonuç ilişkisiyle incelemek gerekir.

- 6.** Elazığ'ın bir kilometre doğusunda yer alan Harput Kalesi, Urartular tarafından yapılmıřtır. Bu kale 1364 yılında Dul-kadiroęulları tarafından onarılmıřtır. Buna ait bilgiler kale duvarı üzerine yazılmıřtır.

Ařaęıdaki bilim dallarından hangisi bu yazıtın okunmasında tarihe yardımcı olur?

- A) Diplomatik B) Heraldik
- C) Antropoloji D) Epigrafya
- E) Nümizmatik



7. Tarih öncesi dönemlerde çoban kabileler, daha fazla miktarda hayvan, deri, yün, et ve benzeri hayvansal ürünleri ellerinde bulunduruyorlardı. Ama tahıl, sebze ve benzeri tarımsal ürünlere sahip değillerdi. Tarımla uğraşanlarda da bunun tersi oluyordu.

Bu durum aşağıdakilerden hangisini zorunlu kılmıştır?

- A) İnsanların ihtiyaçlarından daha fazla üretmesini
B) Tahıl üretiminde artışın sağlanmasını
C) Ürünlerin birbirleriyle değiştirilmesini
D) Hayvancılığın önemli bir ekonomik etkinlik olmasını
E) Yerleşik yaşama geçilmesini

8. I. Ateşin denetim altına alınması
II. Hayvanların evcilleştirilmesi
III. Madenin işlenmesi
IV. Takas usulü ile ticaretin başlaması

Yukarıdaki gelişmelerden hangileri birbiriyle ilişkilendirilebilir?

- A) I ve II B) I ve III C) II ve III
D) III ve IV E) I, II ve IV

9. "19 Mayıs 1919'da Samsun'a ayak basan Mustafa Kemal hazırladığı raporda bölgedeki isyanların Rumlar tarafından çıkarıldığını ifade etti. 28 Mayıs'da Havza'da yayınladığı genelge ile İzmir'in işgalini protesto eden mitingler düzenlenmesini istedi. 22 Haziran 1919'da Amasya Genelgesi'ni yayınladı. Böylece Ulusal Kurtuluş Savaşı'nın programı belirlendi."

Yukarıdaki bilgileri öğrencileri ile paylaşan Hilal Öğretmen, öğrencilerinden bir tarih şeridi oluşturmalarını istemiştir.

Buna göre, Hilal Öğretmen'in tarih biliminin aşağıdaki özelliklerinden hangisi öğretmeye çalıştığı söylenebilir?

- A) Belgelere dayanarak araştırma yapmak
B) Kronolojik sıralama oluşturmak
C) Yardımcı bilim dallarından yararlanmak
D) Olayları ortaya çıktığı dönemin koşullarıyla değerlendirmek
E) İnsan topluluklarının oluşturduğu kültürleri incelemek

10. Kaş açıklarında bulunan Uluburun batık gemisinde Mısır Kraliçesi Nefertiti'nin tek altın mührü bulunmuştur.

Bu bilgiyi araştıran bir tarihçi;

- I. özel mülkiyetin geliştiği,
II. siyasi bir örgütün varlığı,
III. madencilikte ilerlendiği

gelişmelerinden hangilerine ulaşabilir?

- A) Yalnız I B) Yalnız II C) Yalnız III
D) I ve II E) I, II ve III

11. Tarih, zaman ve mekân içinde oluşur. Bu oluşum doğa ve insanın birbirini karşılıklı olarak etkilemesinin ürünüdür.

- I. Coğrafya,
II. Sosyoloji,
III. Kronoloji

Buna göre, numaralanmış bilim dallarından hangilerinin fiziki çevre ile insan arasındaki etkileşimleri incelediği söylenebilir?

- A) Yalnız I B) Yalnız II C) Yalnız III
D) I ve II E) I, II ve III

12. Kırım'da Mezolitik Çağ'a ait bir yerleşim yerinde sık sık köpek kemiklerine rastlanmıştır. İnsanın kendine alıştırarak evcilleştirdiği ilk hayvan köpektir.

Bu bilgiye bakılarak;

- I. Yerleşik yaşama geçiş hayvanların evcilleştirilmesine ortam hazırlamıştır.
II. Aşiret örgütlenmesine geçilmiştir.
III. Av aletlerinin geliştirilmesiyle insan yiyecek ihtiyacını karşılamıştır.

yargılarından hangilerine ulaşılabilir?

- A) Yalnız I B) Yalnız II C) Yalnız III
D) II ve III E) I, II ve III





1.



Verilen görsellerden hangilerinin bir tarihçi için daha güvenilir kaynak grubunda yer aldığı söylenebilir?

- A) Yalnız I B) Yalnız II C) Yalnız III
D) I ve II E) I, II ve III

2. Türk tarihinde "Türk" adı ilk kez Orhun Kitabeleri'nde geçmiştir. Bu kitabeler hakkında ilk bilgiler XIII. yüzyılda yaşayan Cuveyni'nin *Tarih-i Cihangüşa* isimli eserinde yer alır."

Verilen metinde tarih bilimine;

- I. arkeoloji,
II. epigrafya,
III. paleografya

bilim dallarından hangilerinin yardımcı olduğu söylenebilir?

- A) Yalnız I B) Yalnız II C) Yalnız III
D) I ve II E) I, II ve III

3. Diyarbakır yakınlarında bulunan Çayönü yerleşim yerine ait kazılarda bulunan kolyelerde çeşitli renklerde taş boncuklarla deniz kabuklarının kullanıldığı görülmüştür.

Buna göre,

- I. Topluluklar arasında ticaret yapılmıştır.
II. Farklı uygarlıklarla temas kurulmuştur.
III. Anadolu ilk uygarlıkların merkezidir.

yargılarından hangilerine ulaşılabilir?

- A) Yalnız I B) Yalnız II C) Yalnız III
D) I ve II E) I, II ve III

4. I. Değirmen taşları
II. Tahıl ambarları
III. Saban, orak parçaları
IV. Sulama kanalları

Yukarıdakilerden hangileri bir bölgede tarımın yapıldığını kesin olarak kanıtlar?

- A) I ve II B) II ve IV C) III ve IV
D) I, II ve III E) II, III ve IV

5. Coğrafyanın toplumlar üzerindeki uzun süreli etkisi, milletleri medeniyet yolunda değişik yollardan ilerletmiştir.

Bu görüşü dile getiren bir tarihçinin;

- I. bozkır ikliminde yaşayan insanların savaşçı özelliklerinin gelişmesi,
II. Anadolu'da farklı ev yapım malzemelerinin kullanılması,
III. göçebe toplumların kültürel etkileşime kapalı olması

yargılarından hangilerini savunduğu söylenebilir?

- A) Yalnız I B) Yalnız II C) Yalnız III
D) I ve II E) I, II ve III

6. Tarih biliminin;

- I. Deney ve gözlem yapılamaz.
II. Tarihsel olaylar tekrarlanamaz.
III. Kural ve formül konulamaz.

özelliklerinden hangisi pozitif bilimlerden farklı olduğunu kanıtlamaktadır?

- A) Yalnız I B) Yalnız II C) Yalnız III
D) I ve II E) I, II ve III

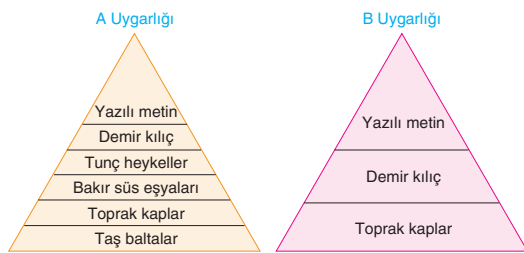


7. Büyük dedesinin mezarını ziyaret eden Arda mezar taşında gördüğü Hicri 1292 yılını görünce şaşırılmış ve büyük dedesinin yaşı ile ilgili hesap yapamamıştır.

Arda'nın bu hesaplamayı yapmak için aşağıdakilerden hangisini bilmesi gerekir?

- A) Takvim türlerinin nasıl ortaya çıktığını
B) Ay yılı ile güneş yılı arasındaki zaman farkını
C) Miladi takvimin Türkiye Cumhuriyeti'nde ne zaman kabul edildiğini
D) Takvimlerin başlangıç yıllarını
E) Türklerin tarih boyunca hangi takvimleri kullandıklarını
8. Aşağıdakilerden hangisi Maden Devri'ne ait özellikler arasında yer almaz?
- A) Bakır ve kalayın karıştırılması ile tunç elde edilmiştir.
B) Bakır ilk kullanılan maden olmuştur.
C) Tunç Devri'nde ilk kez siyasi örgütlenme başlamıştır.
D) Bakırın bulunmasıyla silahlar daha dayanıklı hâle gelmiştir.
E) Yazı demir devrinin sonlarında bulunmuştur.

9.

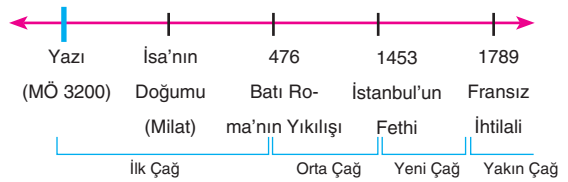


Yukarıda A ve B uygarlıklarında toprağın en alt katmanından başlanarak en üste doğru sırasıyla yaşanan tarihsel gelişim aşamaları verilmiştir.

Buna göre A ve B uygarlıkları ile ilgili aşağıdaki yargılardan hangisi söylenemez?

- A) A uygarlığının gelişimi tarihsel sürece uygundur.
B) A uygarlığında tarihî devirler başlamıştır.
C) B uygarlığı özgün bir yapıya sahiptir.
D) A uygarlığında seramik sanatı görülür.
E) B uygarlığı başka bir toplumdan etkilenmiştir.

10.



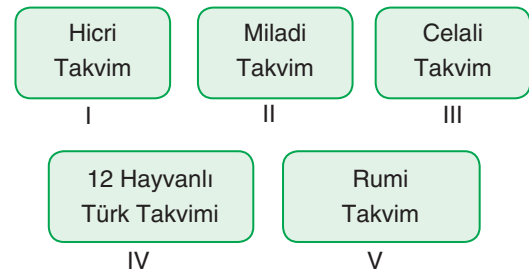
Yukarıdaki tarih şeridi incelendiğinde;

- I. Orta Çağ, Yeni Çağ'dan daha uzun sürmüştür.
II. Yazı, milattan önce icat edilmiştir.
III. İsa'nın doğumu evrensel bir olaydır.

yargılarından hangilerine ulaşılabılır?

- A) Yalnız I B) Yalnız II C) Yalnız III
D) I ve II E) I, II ve III

11.



Yukarıdaki takvim çeşitlerini tahtaya yazan Deniz Öğretmen, öğrencilerine, Türklerin kullandığı bu takvimlerden hangisinin Türk toplumunun dinî inancını değiştirmesiyle kullanılmaya başlandığını sormuştur.

Deniz Öğretmen'in bu sorusuna aşağıdaki öğrencilerden hangisi doğru yanıt vermiştir?

- A) Ferhat: I B) Utku: II C) Gökçe: III
D) Selen: IV E) Eser: V

12. Neolitik Çağ'da çömlekçi çarkında çamurdan vazo, çanak, çömlek yapılmış ve ateşte pişirilerek daha dayanıklı hâle getirilmiştir.

Yalnızca bu bilgi dikkate alındığında Neolitik Çağ ile ilgili;

- I. seramik sanatının işlerlik kazandığı,
II. ilkel anlamda endüstriyel üretim yapıldığı,
III. tarımsal faaliyetlerin başladığı

ifadelerinden hangilerine ulaşılabılır?

- A) Yalnız I B) Yalnız II C) Yalnız III
D) I ve II E) I, II ve III



1. İlk Çağ'da önem taşıyan uygarlıklara bakıldığında Dicle, Fırat, Nil ve Ganj gibi büyük nehirlerin çevresinin tercih edildiği görülmektedir.

Buna göre uygarlıkların bu bölgelerde kurulmasının temel nedeni aşağıdakilerden hangisidir?

- A) Yaşam koşullarının uygun olması
- B) Madenler bakımından zengin olması
- C) Nüfusun yoğun olması
- D) Ticaret yollarının başlangıcında bulunması
- E) İstila tehditlerinden uzak olması

2. Mısır'da hiyeroglifi kullanabilen rahipler ve kâtipler ayrıcalıklı bir konumdayken köylüler üretimde, köleler ise hizmette kullanılmıştır.

Buna göre Mısır Uygarlığı ile ilgili aşağıdaki yargılardan hangisine ulaşılabilir?

- A) Tanrı-kral anlayışı hâkimdir.
- B) Mumyacılık gelişmiştir.
- C) Sınıflı toplum yapısı vardır.
- D) Nil Nehri Mısır'ın hayat kaynağıdır.
- E) Bilim ve sanat çok ilerlemiştir.

3. Aşağıdakilerden hangisi Mezopotamya'nın verimli topraklara sahip olmasının kanıtı olamaz?

- A) Dicle ve Fırat nehirleri arasında bulunması
- B) Sık sık istilaya uğraması
- C) Birçok kavimin bölgeye yerleşmesi
- D) Bölgede uygarlıkların kurulması
- E) Siyasi tarihi Sümerlerin başlatması

4. Sümer ülkesinin güneyinde bir krallık mezarlığında bulunan, mücevherlerle donanmış ölünün çevresinde de silahlı savaşçıları ve köleleri vardır.

Bu durum aşağıdakilerden hangisini kanıtlamaz?

- A) Ölümden sonraki yaşama inancının varlığını
- B) Barış içinde yaşadıklarını
- C) Savaşçı toplum yapısını
- D) Sınıflı toplum yapısını
- E) Kralların mezarlarına önem gösterildiğini

5. Dicle ve Fırat nehirleri arasında kalan bölgeye Mezopotamya denir. Mezopotamya sık sık istilaya uğramış, dışarıdan pek çok kavim bölgeye gelip yerleşmiştir.

Bu durum;

- I. bölgenin verimli topraklara sahip olması,
- II. bölgenin göç yolları üzerinde bulunması,
- III. temel ekonomik etkinliğin ticaret olması

ifadelerinden hangileriyle açıklanabilir?

- A) Yalnız I
- B) Yalnız II
- C) Yalnız III
- D) I ve II
- E) I, II ve III

6. Aşağıdakilerden hangisi Mezopotamya'daki ekonomik etkinliklerle ilgili doğru bir bilgi değildir?

- A) Ekonominin temelini tarım oluşturmaktadır.
- B) Toprak tanrının malı sayılıp rahipler gözetiminde işlenir.
- C) Ürünün büyük kısmı mabetlere verilir.
- D) Hayvancılık ve balıkçılıkta gelişmiştir.
- E) Ticari ilişkiler hemen hemen hiç yoktur.



7. İlk Çağ'da İyonya'da;
- Güneş tutulması önceden hesaplanarak matematik ve astronomide ileri gidilmiştir.
 - Özgür düşüncenin varlığı felsefenin doğmasını sağlamıştır.
 - Dünya'nın yuvarlak olduğu öne sürülmüş ve Dünya'nın oluşumu tartışılmıştır.

Bu gelişmelerden hangileri bilimin çeşitli dallarıyla uğraşıldığını gösterir?

- A) Yalnız I B) Yalnız II C) Yalnız III
D) I ve II E) I, II ve III

8.



Verilen haritaya göre Hitit Uygarlığı ile ilgili;

- Anadolu'da hakimiyet kurduğu,
- Asurlularla ticaret yaptığı,
- Mısır Uygarlığı ile komşu olduğu

yargılarından hangilerine ulaşılabilir?

- A) Yalnız I B) Yalnız II C) Yalnız III
D) I ve II E) I, II ve III

9.



İlk Çağ'daki Anadolu uygarlıkları ile ilgili verilen haritaya göre aşağıdaki yargılardan hangisine varılabilir?

- Lidyalıların temel ekonomik faaliyeti ticarettir.
- Uygarlıklar genellikle su kaynaklarına yakın bölgelerde kurulmuştur.
- Frigler tarımı yasalarla koruma altına almışlardır.
- Anadolu'ya Ege göçleri ile gelen topluluklar uygarlık kurmuştur.
- Hititler merkezî krallıkla yönetilmiştir.

10. Yunanistan'da halk, geçimini zeytincilik, balıkçılık, hayvancılık gibi alanlardan sağlamaktaydı.

Buna göre Yunan Uygarlığı ile ilgili;

- tarıma elverişli topraklarının az olduğu,
- siyasi birlik oluşturamadıkları,
- diğer uygarlıklarla mücadele ettikleri

durumlarından hangileri söylenebilir?

- A) Yalnız I B) Yalnız II C) Yalnız III
D) I ve II E) I, II ve III

11. Hititlerin ve İyonların ahiret inançları zayıflamış, buna karşılık Urartularda ise ölümden sonraki yaşama inanç artmıştır.

Aşağıdakilerden hangisi Urartularla ilgili bu bilgiyi kanıtlar?

- Sulama kanalları yaparak tarımı geliştirmeleri
- Kale mimarisinde gelişmeleri
- Urartulardan günümüze birçok mimari eserin kalması
- Oda biçiminde yaptıkları mezarlarına çeşitli eşyalar koymaları
- Tapınaklar yapıp duvarlarını kabartmalarla süslemeleri

12. Homeros'un destanında doğa tanrılarına tapan Friglerden barışçı bir toplum olarak söz edilmiş ayrıca zenginlikleri de anlatılmıştır.

Buna göre Friglerin zenginliği aşağıdaki alanların hangilerindeki başarılarından kaynaklanmaktadır?

- Kervan ticareti B) Balıkçılık
- Tarım D) Deniz ticareti
- E) Madenler



1. İlahî kaynaklı dinler içinde Hristiyanlık ve İslamiyet'in tüm dünyaya yayıldığı görülürken daha önce gelmiş olan Yahudilik evrensel boyut kazanamamıştır.

Bu durumun temel nedeni olarak aşağıdakilerden hangisi gösterilebilir?

- A) Başka dinlerin bu dine yönelik engellemeleri
B) Yahudilerin Kudüs'ten çıkarılmaları
C) İbranicilerin bu dini kavim dini olarak kabul etmeleri
D) Yahudilerin dinden çok ticaretle uğraşmaları
E) İbranicilerin siyasi birlik kuramamaları

2. Hititlerde tek eşle evlilik, kadınlara miras hakkı, kölelerin hakları, hafif cezaların bedel ödeme şeklinde düzenlenmesi gibi konular kanunlarla güvence altına alınmıştır.

Yalnızca bu bilgiye bakılarak,

- I. Aile hukukuna önem verilmiştir.
II. Sınıflı toplum yapısı vardır.
III. Yönetimde kadınlara haklar verilmiştir.

yargılarından hangilerine ulaşılabılır?

- A) Yalnız I B) Yalnız II C) Yalnız III
D) I ve II E) II ve III

3. Mezopotamya uygarlıklarının bilime katkıları oldukça fazladır ancak bu uygarlıklardan günümüze çok az sayıda mimari kalıntı gelebilmiştir.

Bu durumun nedeni olarak aşağıdakilerden hangisi söylenebilir?

- A) Yapı malzemelerinin dayanıksız olması
B) Bölgenin tarıma elverişli olması
C) Bölgede yaşam biçiminin göçebe olması
D) Doğal afetlerin eserleri yok etmesi
E) Mimari alanda bir gelişim yaşanmamış olması

4. Asurların koloncilik çalışmaları sayesinde MÖ 1800'lerde yazı Anadolu'ya taşınmış, Hititler bu yazıyı kendilerine uyarlayarak "Hitit Çivi Yazısı" kullanmışlardır.

Yalnızca bu bilgiye göre,

- I. Yazılı tarih ilk olarak Anadolu'da başlamıştır.
II. Ticaret, kültürün yayılmasına etki etmiştir.
III. Hititler Mezopotamya kültürünü aynen almıştır.

yargılarından hangilerine ulaşılabılır?

- A) Yalnız I B) Yalnız II C) Yalnız III
D) I ve II E) I, II ve III

5. Fenikeliler Lübnan Dağları ile Akdeniz kıyı şeridi arasında Sur, Sayda, Biblos gibi şehir devletleri şeklinde yaşamışlar ve deniz ticaret koloncilikliğini başlatmışlardır.

Buna göre Fenikelilerle ilgili olarak,

- I. Coğrafi yapı yaşam biçiminde etkilidir.
II. Siyasi birlik yoktur.
III. Temel geçim kaynağı ticarettir.

yargılarından hangilerine ulaşılabılır?

- A) Yalnız I B) Yalnız II C) I ve III
D) II ve III E) I, II ve III

6. Sami asıllı bir kavim olan İbraniciler, Suriye ile Mezopotamya'ya yerleşmiş daha sonra Nil vadisine göç etmişlerdir. Tarihte ilk kez tek tanrılı inanca sahip topluluktur. Hz. Musa'nın yaymış olduğu Museviliği kabul etmişlerdir. İbraniciler, MÖ X.yüzyılda Filistin'de Hz.Davut zamanında devlet kurmuşlardır. Ancak Hz.Süleyman'ın ölümünden sonra ikiye ayrılarak İsrail ve Yahudi devletleri ortaya çıkmış, İsrail Devleti'ne Asurlular, Yahudi Devleti'ne ise Babiliciler son vermiştir.

Buna göre İbranicilerle ilgili aşağıdaki yargılardan hangisine ulaşılamaz?

- A) Dinî inançları çağdaşı toplumlardan farklıdır.
B) Mezopotamya uygarlıkları ile etkileşim kurulmuştur.
C) Doğu Akdeniz'de hüküm sürmüşlerdir.
D) Siyasi değişimler yaşamışlardır.
E) Avrupa'ya göç etmişlerdir.



7. MÖ 1500'lerde Hindistan'ı istila eden Ariler sınıfsal farklılıklara, sınıflar arası geçişsizliğe ve eşitsizliğe dayanan Kast Sistemi'ni kurmuşlardır.

Bu sistemin Hindistan'da aşağıdakilerden hangisine neden olduğu söylenebilir?

- A) Sanat anlayışının gelişmemesine
B) Kültürel farklılıkların yaşanmamasına
C) Sınıflar arası çatışmaların çok sık yaşanmasına
D) Millet bilincinin gelişmemesine
E) Hint kültürünün yok olmasına

8.



Tuşpa / Van kalesi



Bereket Tanrıçası Kibele



Hitit Yazılıkaya kabartmaları



Kadeş Antlaşması kil tablet

Anadolu uygarlıklarına ait verilen görselleri değerlendiren bir araştırmacının Anadolu ile ilgili aşağıdakilerden hangisini söylemesi beklenemez?

- A) Tarım hayatın farklı alanlarını etkilemiştir.
B) Taş ve kaya oymacılığı gelişmiştir.
C) Merkezî devlet anlayışı görülmüştür.
D) Tarihî devirlere geçilmiştir.
E) Savunma amaçlı yapılar yapılmıştır.

9. Doğu Akdeniz ve bugünkü Lübnan dolaylarına yerleşen Fenikeliler buldukları bölgenin dağlık bir arazi olması nedeniyle denizcilikle uğraştılar. Kent devletleri şeklinde örgütlendiler. Biblo, Sayda ve Sur şehirlerini kurdular. Tarihte ilk koloniletiği oluşturan Fenikeliler kültür alışverişinde etkili oldular.

Buna göre;

- I. Fenikeliler siyasi birlik oluşturmamışlardır.
II. Deniz ticareti uygarlığın gelişimine katkı sağlamıştır.
III. Coğrafi koşullar ekonomik faaliyetlerde belirleyici olmuştur.

yargılarından hangilerine ulaşılabilir?

- A) Yalnız I
B) Yalnız II
C) Yalnız III
D) I ve II
E) I, II ve III

10. Hammurabi Kanunları'na göre başkasının kölesini yaralayan, sahibine ödenecek para ile cezalandırılıyordu.

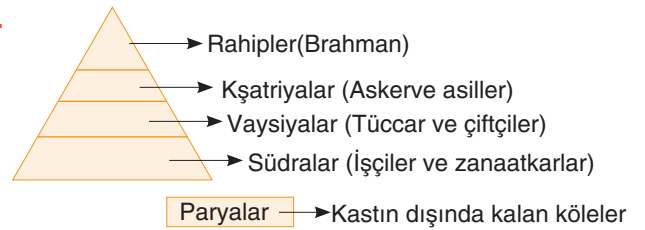
Bu durum aşağıdakilerden hangisini gösterir?

- A) Hammurabi kanunlarının şiddete dayalı olduğunu
B) Yasaların köle sahiplerinin çıkarlarını koruduğunu
C) Kölelerin haklarının yasalarla korunduğunu
D) Hammurabi'nin iyi bir devlet yöneticisi olduğunu
E) Babillerde merkezî otoritenin güçlü olduğunu

11. İlk Çağ'da Batı Anadolu'dan kara yolu ile güney doğuya doğru yönelen bir ticaret kervanının aşağıdaki ticaret güzergahlarından hangisini kullanması gerektiği söylenebilir?

- A) Kral Yolu
B) İpek Yolu
C) Baharat Yolu
D) Kürk Yolu
E) Akdeniz limanları

12.



Buna göre Hindistan'da ortaya çıkan ve verilen görseldeki toplumsal sınıflara ayrılan Kast Sistemi ile ilgili aşağıdakilerden hangisi söylenemez?

- A) Sistemin dışında kalan bireyler vardır.
B) Din adamları kastın en üst tabakasını oluşturur.
C) Kastlar arasında mesleki farklılıklar bulunmaktadır.
D) Ariler tarafından oluşturulmuştur.
E) Kölelik görülmüştür.



1. İlk Çağ ile ilgili aşağıdaki genellemelerden hangisi yanlıştır?

- A) Günümüz bilimlerinin temelleri bu çağda atılmıştır.
- B) Çok tanrılı inanç sistemleri hâkimdir.
- C) Teokratik egemenlikler yaygın olarak görülmüştür.
- D) İslamiyet'in yayılış hızı artmıştır.
- E) Köleci toplum yapısı egemendir.

2. Hititlerde ölümden sonra tanrılara hesap verme düşüncesinden dolayı krallar yaşadıklarını tüm yönleriyle olduğu gibi yazdırmışlar ve "Anal" adı verilen bu kral yıllıkları korunmuştur.

Buna göre,

- I. Çok tanrılı inanç sistemi vardır.
- II. Objektif tarih anlayışı gelişmemiştir.
- III. Tarih yazıcılığı gelişmiştir.
- IV. Tarihî devirler yaşanmıştır.

yargılarından hangilerine ulaşılabilir?

- A) Yalnız I
- B) Yalnız II
- C) Yalnız III
- D) I ve IV
- E) I, III ve IV

3. İlk Çağ'da İyon şehir devletleri Ege, Akdeniz ve Karadeniz'de koloniler kurmuşlar, dış saldırılara karşı ordularını seçilmiş bir tiranın emrine vermişlerdir.

Bu bilgilere göre İyon Uygarlığı ile ilgili olarak,

- I. Siyasi birlik yoktur.
- II. Bilimsel alanda gelişmişlerdir.
- III. Savaş durumunda şehir devletleri ortak hareket etmiştir.
- IV. Ticaretle uğraşmışlardır.

yargılarından hangilerine ulaşamaz?

- A) Yalnız I
- B) Yalnız II
- C) I ve III
- D) II ve IV
- E) I, II ve IV

4. Sümerler çivi yazısını bulmuş, Asurlar Anadolu'ya bu yazıyı tanıtmış, Hititler medeni hukuku başlatmıştır.

Buna göre,

- I. Tarihî devirler Mezopotamya'da başlamıştır.
- II. Anadolu, Mezopotamya kültüründen etkilenmiştir.
- III. Uygarlıklar farklı alanlarda öncülük yapmışlardır.
- IV. Asurlar kültürel etkileşime aracılık etmiştir.
- V. İlk yazılı hukuk Hititlerle başlamıştır.

yargılarından hangisi yanlıştır?

- A) I
- B) II
- C) III
- D) IV
- E) V

5. Mısır Uygarlığı'nda mumyacılık gelişmiştir. Buna dayalı olarak piramit, heykel yapımı ve hiyeroglif denilen resim yazısı geliştirilmiştir.

Buna göre;

- I. Dinsel inanç farklı alanlarda da gelişmelere neden olmuştur.
- II. Sanat ve bilim alanında gelişmeler yaşanmıştır.
- III. Mısır Uygarlığı Sümer yazısından etkilenmiştir.

yargılarından hangilerine ulaşılabilir?

- A) Yalnız I
- B) Yalnız II
- C) I ve II
- D) II ve III
- E) I, II ve III

6. Çin Uygarlığı'nın ilk devirleri hakkında birçok efsane ve hurafe vardır. Çin'in esaslı bir şekilde bilinebilen tarihi ancak MÖ XI. yüzyıldan itibaren başlar.

Bu durum aşağıdakilerden hangisinin sonucudur?

- A) Yazılı belgelerinin olmamasının
- B) Bu uygarlığın önemsenmemesinin
- C) Başka toplumlarla ilişkilerinin olmayışının
- D) Kendi kültürlerine fazlasıyla bağlı olmalarının
- E) Çin yazısının çok zor çözülmesinin